

**Проверочная работа
по БИОЛОГИИ**

**6 КЛАСС
(концентрическая программа)**

Образец

Инструкция по выполнению работы

На выполнение работы по биологии отводится 45 минут. Работа включает в себя 10 заданий.

Ответы на задания запишите в поля ответов в тексте работы. В случае записи неверного ответа зачеркните его и запишите рядом новый.

При выполнении работы не разрешается пользоваться учебником, рабочими тетрадями и другим справочным материалом. Разрешается использовать линейку.

При необходимости можно пользоваться черновиком. Записи в черновике проверяться и оцениваться не будут.

Советуем выполнять задания в том порядке, в котором они даны. В целях экономии времени пропускайте задание, которое не удаётся выполнить сразу, и переходите к следующему. Если после выполнения всей работы у Вас останется время, то Вы сможете вернуться к пропущенным заданиям.

Желаем успеха!



В образце представлено два примера задания 5. В реальных вариантах проверочной работы на этой позиции будет предложено только одно задание.

Заполняется учителем, экспертом или техническим специалистом

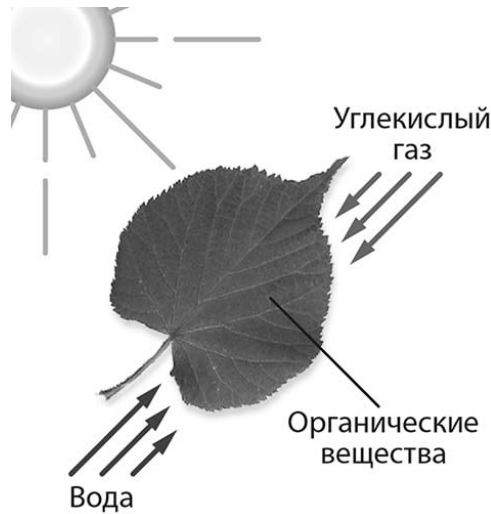
Обратите внимание: в случае, если какие-либо задания не могли быть выполнены целым классом по причинам, связанным с отсутствием соответствующей темы в реализуемой школой образовательной программе, в форме сбора результатов ВПР всем обучающимся класса за данное задание вместо балла выставляется значение «Тема не пройдена». В соответствующие ячейки таблицы заполняется н/п.

Таблица для внесения баллов участника

Номер задания	1.1	1.2	1.3	2.1	2.2	3	4.1	4.2	4.3	5	6	7	8.1	8.2	9	10	Сумма баллов	Отметка за работу
Баллы																		

1

На представленном ниже рисунке учащийся зафиксировал в виде схемы один из процессов жизнедеятельности растений. Рассмотрите схему и ответьте на вопросы.



1.1. Как называют данный процесс?

Ответ: _____

1.2. Знание в области какой ботанической науки позволит учащемуся изучить данный процесс?

Ответ: _____

1.3. Какой клеточный пигмент обеспечивает данный процесс?

Ответ: _____

2

В приведённой ниже таблице между позициями первого и второго столбцов имеется взаимосвязь.

Целое	Часть
Образовательная ткань	камбий
Покровная ткань	...

2.1. Какое понятие следует вписать на место пропуска в этой таблице?

- 1) кожа
- 2) сосуды
- 3) ситовидные трубки
- 4) древесные волокна

Ответ.

2.2. Какую функцию выполняет камбий у растений?

Ответ.

- 3 Выберите из предложенного списка и вставьте в текст пропущенные слова, используя для этого их цифровые обозначения. Впишите номера выбранных слов на места пропусков в тексте.

Размножение растений

Жизнь на Земле существует благодаря размножению организмов. При _____ (А) размножении потомство имеет наследственность сходную с родительской. Бесполое размножение происходит с помощью _____ (Б) или вегетативных органов. Половое размножение сопровождается образованием _____ (В) и оплодотворением. Потомство, полученное при половом размножении, обладает более разнообразной наследственной информацией в сравнении с наследственностью каждого из родителей.

Список слов:

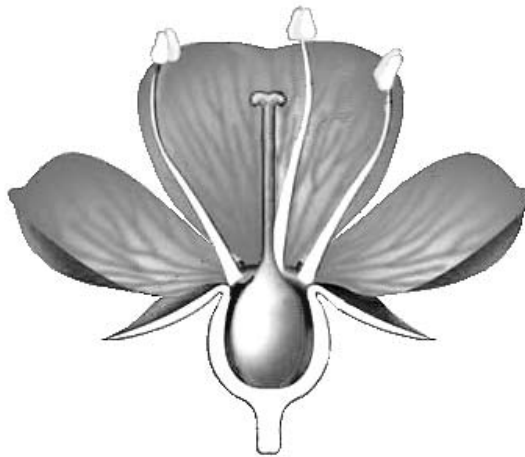
- 1) спора
- 2) гамета
- 3) корень
- 4) бесполое
- 5) половое
- 6) вегетативное

Запишите в таблицу выбранные цифры под соответствующими буквами.

□ Ответ:

А	Б	В

- 4 Рассмотрите изображение цветка и выполните задания.



4.1. Покажите стрелками и подпишите на рисунке *чашелистик, пыльник, завязь*.

4.2. Какую функцию в цветке выполняет завязь?

□ Ответ: _____

4.3. Назовите клетку, которая образуется в завязи.




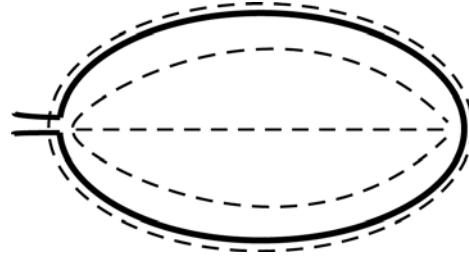
□ Ответ: _____

5


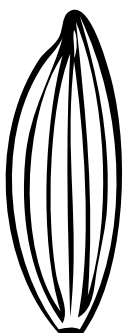


Рассмотрите изображение листа сирени и опишите его по следующему плану: форма листа, жилкование листа, тип листа по соотношению длины и ширины листовой пластинки (без черешка) и по расположению наиболее широкой части. Используйте при выполнении задания линейку и карандаш.



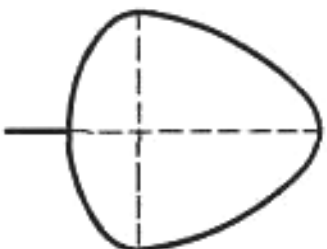
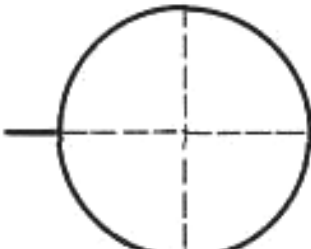
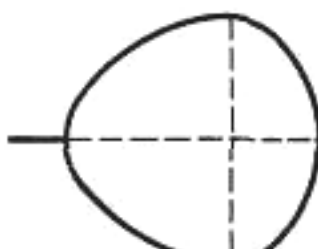
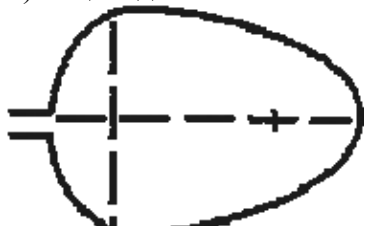
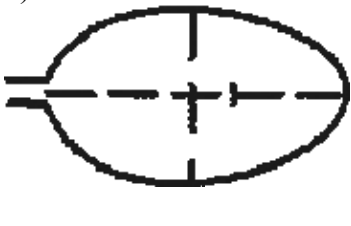
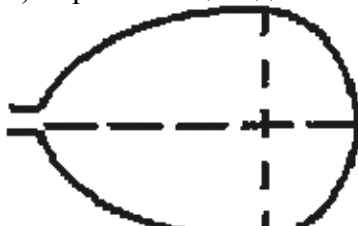
А. Форма листа

1) перисто-лопастная 	2) перисто-раздельная 
3) перисто-рассечённая 	4) цельная 

Б. Жилкование листа

			
1) параллельное	2) дуговидное	3) пальчатое	4) перисто-сетчатое

В. Тип листа по соотношению длины и ширины листовой пластинки (без черешка) и по расположению наиболее широкой части

Длина равна ширине или немного её превышает.		
1) широкояйцевидный 	2) округлый 	3) обратно-широкояйцевидный 
Длина превышает ширину в 1,5–2 раза.		
4) яйцевидный 	5) овальный 	6) обратно-яйцевидный 

Впишите в таблицу номера выбранных ответов под соответствующими буквами.



Ответ.

А	Б	В





ИЛИ

5

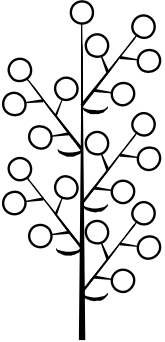
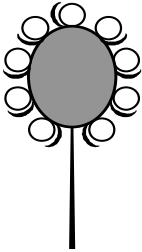


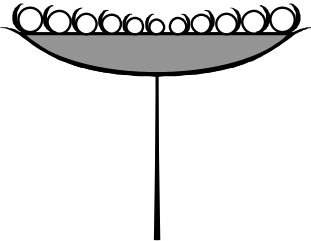

Рассмотрите изображение побега черной смородины и опишите его по следующему плану: жизненная форма, тип соцветия, листорасположение.




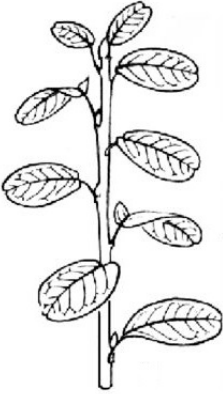

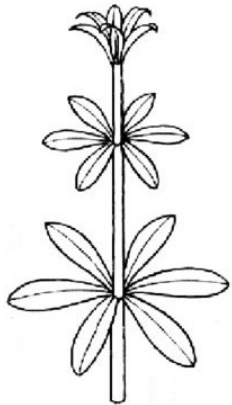
А. Жизненная форма

1) дерево	2) кустарник
	
3) травянистое растение	4) кустарничек
	

Б. Тип соцветия

<p>1) метёлка</p> 	<p>2) головка</p> 	<p>3) сложный колос</p> 
<p>4) серёжка (колос)</p> 	<p>5) корзинка</p> 	<p>6) кисть</p> 

В. Листорасположение

			
<p>1) прикорневая розетка</p>	<p>2) очерёдное</p>	<p>3) супротивное</p>	<p>4) мутовчатое</p>

Впишите в таблицу номера выбранных ответов под соответствующими буквами.



Ответ.

А	Б	В

6 Что из перечисленного относят к видоизмененным корням?

- 1) корневище
- 2) клубень
- 3) корнеплод
- 4) луковица

Ответ.

7 Анна и Владимир собрали и подготовили для гербария образцы растений. Для каждого растения им необходимо составить «паспорт», соответствующий положению этого растения в общей классификации организмов.

Помогите ребятам записать в таблицу **слова** из предложенного списка в такой последовательности, чтобы получился «паспорт» растения.

Список слов:

- 1) Покрытосеменные (цветковые)
- 2) Ромашка аптечная
- 3) Ромашки
- 4) Растения
- 5) Двудольные

Царство	Отдел	Класс	Род	Вид

8 8.1. Установите соответствие между характеристиками и отделами растений: к каждой позиции, данной в первом столбце, подберите соответствующую позицию из второго столбца.

ХАРАКТЕРИСТИКИ РАСТЕНИЙ

- А) семечки развиваются в завязи пестика
- Б) размножаются не только половым, но и вегетативным способом
- В) орган размножения – цветок
- Г) семечки лежат на чешуйках шишек
- Д) среди жизненных форм отсутствуют травы
- Е) семя содержит одну или две семядоли

ОТДЕЛЫ

- 1) Голосеменные
- 2) Покрытосеменные

Запишите в таблицу выбранные цифры под соответствующими буквами.

Ответ:

А	Б	В	Г	Д	Е

8.2. Приведите по три примера растений, относящихся к указанным отделам. Запишите их названия в таблицу.

Голосеменные	Покрытосеменные

9

Верны ли следующие суждения о папоротникообразных?

- А. Особенно богаты папоротниками влажные тропические и субтропические леса.
Б. Каменный уголь образовался из древних вымерших папоротникообразных.

- 1) верно только А
- 2) верно только Б
- 3) оба суждения верны
- 4) оба суждения неверны

Ответ.

10

Перед вами изображены шесть представителей мира растений. Предложите основание, согласно которому эти растения можно разделить на две группы. Заполните таблицу: запишите в неё основание, по которому были разделены растения, общее название для каждой группы растений и перечислите растения, которые вы отнесли к этой группе.



Капуста



Сосна



Картофель



Яблоня



Ольха



Мох сфагнум

Номер группы	Какое основание позволило разделить растения?	Как называется данная группа растений?	Какие растения относятся к данной группе?
Группа 1			
Группа 2			

Система оценивания проверочной работы

Правильный ответ на каждое из заданий 1.1, 1.2, 1.3, 2.1, 4.3, 6, 9 оценивается 1 баллом.

Полный правильный ответ на задание 3, 5 и 8.1 оценивается 2 баллами. Если в ответе допущена одна ошибка (в том числе написана лишняя цифра или не написана одна необходимая цифра), выставляется 1 балл; если допущено две или более ошибки – 0 баллов.

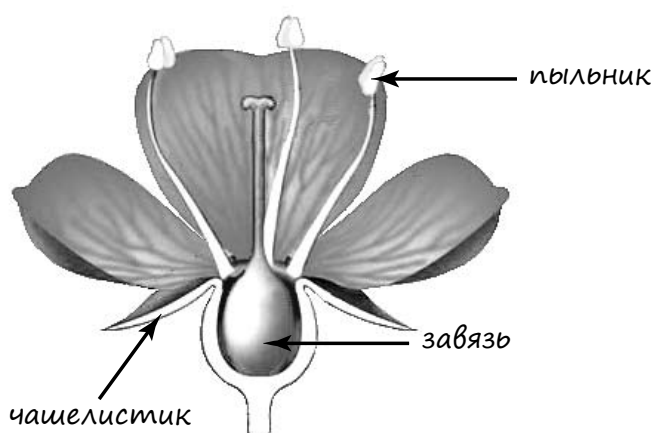
Правильный ответ на задание 7 оценивается 2 баллами. Если в ответе переставлены местами два элемента, выставляется 1 балл, более двух элементов – 0 баллов.

Номер задания	Правильный ответ				
1.1	фотосинтез				
1.2	физиологии растений				
1.3	хлорофилл				
2.1	1				
3	412				
4.3	яйцеклетка				
5	444		262		
6	3				
7	Царство	Отдел	Класс	Род	Вид
	Растения	Покрыто-семенные	Двудольные	Ромашки	Ромашка аптечная
	ИЛИ				
	Царство	Отдел	Класс	Род	Вид
	4	1	5	3	2
8.1	222112				
9	3				

2. 2.2. Какую функцию выполняет камбий у растений?

Содержание верного ответа и указания к оцениванию (допускаются иные формулировки ответа, не искажающие его смысла)	Баллы
Правильный ответ должен содержать <u>указание функции</u> , например: увеличение размеров растения ИЛИ увеличение стебля и корня в диаметре	
Правильно указана функция	1
Ответ неправильный	0
<i>Максимальный балл</i>	<i>1</i>

4. 4.1. Покажите стрелками и подпишите на рисунке *чашелистик*, *пыльник*, *завязь*.



Содержание верного ответа и указания по оцениванию	Баллы
Верно подписаны три части цветка	2
Верно подписаны только две части цветка	1
Верно подписана только одна часть цветка. ИЛИ Ответ неправильный	0
<i>Максимальный балл</i>	<i>2</i>

4.2. Какую функцию в цветке выполняет завязь?

Содержание верного ответа и указания к оцениванию (допускаются иные формулировки ответа, не искажающие его смысла)	Баллы
Правильный ответ должен содержать <u>указание функции</u> , например: защита семязачатка от высыхания ИЛИ, защита от низких температур, ИЛИ защита от поедания насекомыми	
Правильно указана функция	1
Ответ неправильный	0
<i>Максимальный балл</i>	<i>1</i>

8

8.2. Приведите по три примера растений, относящихся к указанным отделам. Запишите их названия в таблицу.

Содержание верного ответа и указания к оцениванию (допускаются иные формулировки ответа, не искажающие его смысла)	Баллы
Правильный ответ должен содержать <u>по три примера</u> растений, относящихся к отделам Голосеменные и Покрытосеменные	
Правильно указано по три примера растений в каждом отделе	2
Правильно указано два-три примера растений, относящихся к одному отделу, и два примера растений, относящихся к другому отделу	1
Все иные ситуации, не соответствующие правилам выставления 2 и 1 балла. ИЛИ Ответ неправильный	0
<i>Максимальный балл</i>	2

10

Перед вами изображены шесть представителей мира растений. Предложите основание, согласно которому эти растения можно разделить на две группы. Заполните таблицу: запишите в неё основание, по которому были разделены растения, общее название для каждой группы растений и перечислите растения, которые вы отнесли к этой группе.

Содержание верного ответа и указания к оцениванию (допускаются иные формулировки ответа, не искажающие его смысл)	Баллы
Правильный ответ должен содержать следующие <u>элементы</u> : 1) <u>основание</u> – выведение человеком для получения пищевых продуктов; 2) <u>группа 1</u> – культурные растения: капуста, яблоня, картофель; 3) <u>группа 2</u> – дикорастущие растения: ольха, сосна, мох сфагнум	
Правильно заполнены пять ячеек таблицы	3
Без ошибок заполнены только четыре любые ячейки таблицы	2
Без ошибок заполнены только три любые ячейки таблицы	1
Все иные ситуации, не соответствующие правилам выставления 3, 2 и 1 балла. ИЛИ Ответ неправильный	0
<i>Максимальный балл</i>	3

Система оценивания выполнения всей работы

Максимальный первичный балл – 24.

Рекомендации по переводу первичных баллов в отметки по пятибалльной шкале

Отметка по пятибалльной шкале	«2»	«3»	«4»	«5»
Первичные баллы	0–9	10–14	15–19	20–24